

20. ŠKOLSKO/OPĆINSKO/GRADSKO NATJECANJE IZ GEOGRAFIJE 2013. GODINE

Razred ili kategorija natjecanja: **7. razred**

Zaporka

--	--	--	--	--

Broj postignutih bodova _____ / **70**

Potpis članova Školskog povjerenstva

1. _____

2. _____

3. _____

Mjesto i nadnevak: _____

Za rješavanje zadataka predviđeno je 60 minuta.

Test se rješava kemijskom olovkom s plavom tintom koja se ne briše. Uporaba obične olovke i crvene ili neke druge boje tinte (osim plave) rezultira diskvalifikacijom učenika.

Pri rješavanju testa treba primijeniti jezičnu normu standardnoga hrvatskoga jezika, posebice treba poštivati pravopisna pravila o pisanju velikoga i maloga početnoga slova geografskih imena. Za pisanje geografskih imena u testovima i praktičnim radovima primjenjuje se *Popis geografskih imena* izrađen za potrebe natjecanja.

Odgovori učenika moraju biti čitljivo napisani pisanim slovima, osim u zadacima u kojima je odgovor jedno slovo.

Za vrijeme testiranja ne smije se koristiti ništa osim navedenoga pribora za pisanje. Ova odredba podrazumijeva da natjecatelji ne smiju kod sebe (na sebi, ispod, u svojoj odjeći i slično) imati predmete koji na bilo koji način mogu dovesti u sumnju pravilno provođenje natjecanja. Učenici se ne smiju služiti atlasom, zidnom kartom ni računalom. Kartografski i grafički prilozi nužni za rješavanje zadataka sastavni su dio testa.

Učenicima se dopušta pisanje po marginama ispitnog materijala bez oduzimanja bodova i/ili diskvalifikacije.

Potpuno ispravno riješeni zadaci, prema uputi za rješavanje vrednuju se s jednim, dva ili tri boda. U djelomično ispravno riješenim zadacima boduju se ispravno riješene čestice, ako nije bilo korekcije odgovora u tim česticama. Netočno riješeni zadaci i naknadno ispravljeni odgovori te odgovori koji su pisani tiskanim slovima ili kombinacijom tiskanih i pisanih slova, kao i odgovori u zagradama ne vrednuju se.

**U SLJEDEĆIH ŠEST ZADATAKA SAMO JE JEDAN TOČAN ODGOVOR. ZAOKRUŽI SLOVO
ISPRED TOČNOG ODGOVORA.**

- 1** 1. Koji je od navedenih kontinenata gušće naseljen od Europe?
a) Afrika b) Azija c) Južna Amerika d) Sjeverna Amerika
- 1** 2. Koji je od navedenih otoka nastao kao posljedica razmicanja litosfernih ploča?
a) Irska b) Island c) Kreta d) Velika Britanija
- 1** 3. Koliko je službenih jezika u Belgiji?
a) jedan b) dva c) tri d) četiri
- 1** 4. Kojim je od navedenih stupnjeva istočno od početnog meridijana označen meridijan - središte vremenskog pojasa prema kojemu se zimi određuje službeno vrijeme u većini europskih država?
a) 0° b) 15° c) 30° d) 45°
- 1** 5. U kojoj od navedenih nizina su najveće površine pod lesom?
a) Andaluzijskoj b) Aragonskoj c) Padskoj d) Panonskoj
- 1** 6. Koji od navedenih stupnjeva u geografskoj mreži presijeca Europu?
a) 66,5° sjev. od ekvatora b) 23,5° sjev. od ekvatora c) 23,5° juž. od ekvatora d) 66,5° juž. od ekvatora

SLJEDEĆIH PET ZADATKA RIJEŠI UZ POMOĆ PRILOŽENE GEOGRAFSKE KARTE EUROPE.

- 3** 7. Upiši slovo **A** na kartu u prostor triju država u kojima je engleski jezik službeni ili jedan od službenih jezika.
- 3** 8. Upiši slovo **B** na kartu u prostor triju država koje čine Beneluks.
- 2** 9. Upiši slovo **Z** na kartu u prostor „zelenog otoka“. Ime tog otoka je _____.
- 2** 10. Upiši slovo **I** na kartu u prostor dviju država Sjeverne Europe čije službene jezike ubrajamo u ostale indoeuropske jezike.
- 2** 11. Brojem **1** na karti je označeno _____ more, a brojem **2** na karti je označeno _____ more.



U SLJEDEĆIH PET ZADATAKA POVEŽI PAROVE UPISIVANJEM SLOVA NA CRTU ISPRED PONUĐENIH ODGOVORA. TRI CRTE MORAJU OSTATI PRAZNE.

- 2** 12. Navedene biljke pridruži odgovarajućem tipu klime za koji su karakteristične.
A) bukva B) maslina
___ polarna ___ sredozemna ___ stepska ___ umjereno topla ___ vlažna snježno-šumska

- 2** 13. Navedene vrhove pridruži državama u kojima se nalaze.
A) Elbrus B) Ben Nevis
___ Francuska ___ Švicarska ___ Rusija ___ Ujedinjeno Kraljevstvo ___ Ukrajina

- 2** 14. Navedena objašnjenja pridruži odgovarajućim pojmovima.
A) zaljev nastao potapanjem donjeg dijela ledenjačke doline
B) strma obala nastala radom morskih valova
___ estuarij ___ fjeld ___ fjord ___ klif ___ rijas

- 2** 15. Prikazane kulturno-povijesne spomenike pridruži imenima gradova u kojima se nalaze.



___ Amsterdam ___ Bruxelles ___ London ___ Rotterdam ___ Pariz

- 2** 16. Navedene države pridruži odgovarajućim poluotocima.
A) Španjolska B) Švedska
___ Apeninski ___ Balkanski ___ Jylland ___ Pirenejski ___ Skandinavski

U SLJEDEĆA ČETIRI ZADATKA DOPUNI REČENICE.

- 3** 17. U Europi se rabe različita pisma. Imenuj ih ispod navedenog teksta:
Ευτυχώς μετά από ποτέ! Sretno do kraja! Долго и счастливо!

- 2** 18. Prvotna gospodarska struktura stanovništva država Zapadne Europe I-II-III je nakon druge industrijske revolucije promijenjena u _____, a danas je redoslijed sektora _____.
(upiši na svaku crtu jedan od navedenih redoslijeda sektora: **I-II-III** ili **II-I-III** ili **I-III-II** ili **II-III-I** ili **III-II-I** ili **III-I-II**)

- 2 19. Ime glavnog grada Engleske je _____, a najvećeg industrijskog središta „crne Engleske“ („black countryja“) je _____.
- 2 20. Značenje prostora određeno pomoću geografske mreže nazivamo _____, a međusobni prostorni odnos neke pokrajine ili države prema drugim prostornim jedinicama nazivamo _____.

SLJEDEĆA TRI ZADATKA RIJEŠI UZ POMOĆ PRILOŽENE TABLICE.

- 2 21. Prema podacima iz tablice izračunaj temperaturnu amplitudu za europske gradove označene slovima A, B i C, a dobivene podatke upiši na odgovarajuće mjesto u tablici. Zadnji stupac ispunit ćeš prema uputama u sljedećem zadatku.

	Temperatura najtoplijeg mjeseca u godini u °C	Temperatura najhladnijeg mjeseca u godini u °C	Temperaturna amplituda u °C	Ime grada
Grad A	17	4		
Grad B	22	-1		
Grad C	19	-10		

Na temelju dobivenih podataka položaj gradova A, B i C od istoka prema zapadu je: _____ (upiši navedena slova).

- 3 22. Prema pripadajućim podacima u tablici, od navedenih gradova odaberi tri i upiši njihova imena u odgovarajuća polja zadnjeg stupca tablice u prethodnom zadatku:

Budimpešta; London; Moskva; Rim

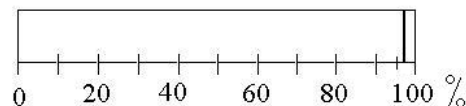
Prostor za računanje

- 2 23. Razlika u godišnjoj amplitudi temperatura posljedica je izloženosti Europe klimatskim utjecajima kopna što se naziva _____ i klimatskim utjecajima mora što se naziva _____.

SLJEDEĆI ZADATAK RIJEŠI UZ POMOĆ PRILOŽENOG DIJAGRAMA.

- 3 24. Najviši stupanj urbanizacije u Europi, osim gradova država, ima _____ (upiši ime države), a on iznosi _____ (vidi dijagram desno).

Na dijagramu ispuni u cijelosti udio ruralnog stanovništva u europskoj državi koja ima najviši stupanj urbanizacije.



SLJEDEĆA ČETIRI ZADATKA RIJEŠI UZ POMOĆ PRILOŽENE GEOGRAFSKE KARTE.

2 25. Ime morskog prolaza na karti označenog slovom **A** je _____,

_____ a njegov najuži dio zove se _____.

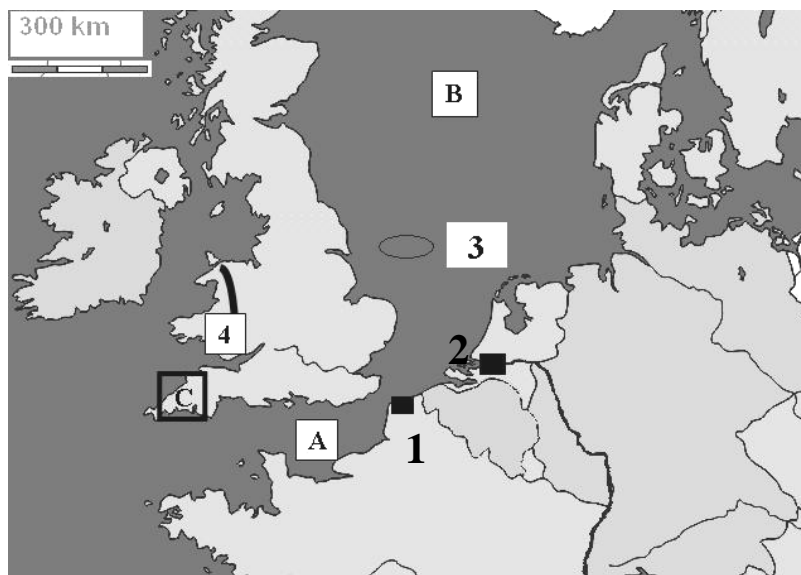
2 26. Na crte uz brojeve upiši imena gradova označenih na karti crnim pravokutnicima.

1 - _____

2 - _____

2 27. Ime mora na karti označenog slovom **B** je _____ more, a ime ribolovnog plićaka na karti označenog elipsom i brojem **3** je _____.

3 28. Ime poluotoka na karti označenog slovom **C** je _____, a ime poluotoka na karti označenog brojem **4** je _____ kojim se proteže staro _____ gorje (*upiši ime gorja*).

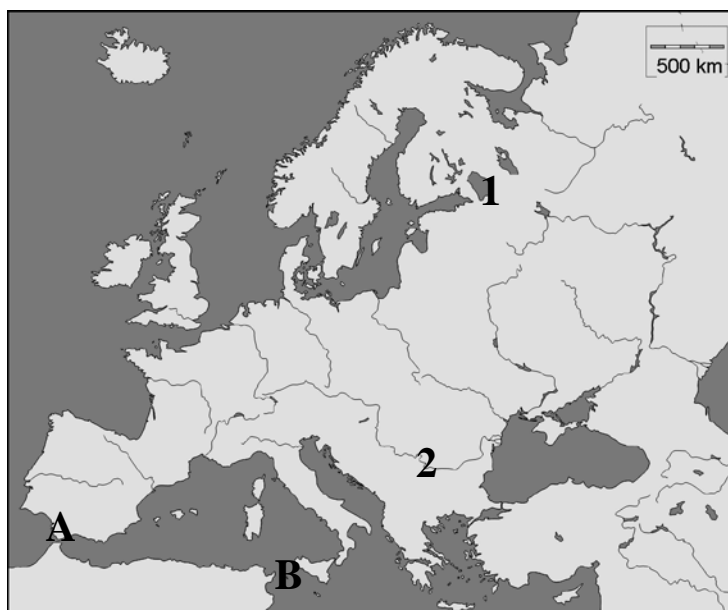


SLJEDEĆA ČETIRI ZADATKA RIJEŠI UZ POMOĆ PRILOŽENE GEOGRAFSKE KARTE EUROPE.

2 29. Na karti podebljaj u cijeloj dužini rijeku koja pripada jadranskom slijevu. Ime te rijeke je _____.

2 30. Ime jezera označenog na karti brojem **1** je _____, a po postanku pripada skupini _____ jezera.

2 31. Ime rijeke označene na karti brojem **2** je _____. Oblik ušća te rijeke nazivamo _____.



2 32. Ime morskog prolaza na karti označenog slovom **A** je _____, a označenog slovom **B** je _____.

**U SVAKOM OD SLJEDEĆA TRI ZADATKA DVA SU ODGOVORA TOČNA. ZAOKRUŽI SLOVA
ISPRED TOČNIH ODGOVORA.**

2 33. Iz kojih se od navedenih država najviše iseljavalo stanovništvo na prijelazu 19. u 20. st. zbog bolesti vinove loze?

- a) Belgije b) Hrvatske c) Italije d) Njemačke e) Ujedinjenog Kraljevstva

2 34. Koji se od navedenih gradova nalaze sjevernije od Pariza?

- a) Bordeaux b) Lens c) Lille d) Lyon e) Toulouse

2 35. Koji su od navedenih pojmova simboli Nizozemske?

- a) autobusi b) masline c) šampanjac d) tulipani e) vjetrenjače