

ŠKOLSKO/OPĆINSKO/GRADSKO NATJECANJE UČENIKA IZ GEOGRAFIJE 2011. GODINE  
7. RAZRED

Zaporka \_\_\_\_\_ Bodovi \_\_\_\_\_

U svakom od sljedeća dva zadatka prekrži dva netočna pojma napisana kosim slovima.

- 2   1. Od Atlantskog oceana prema istoku Europe temperaturna amplituda se *povećava/smanjuje*, a količina padalina se *povećava /smanjuje*.
- 2   2. Većina stanovništva Europe govori *indoeuropskim/uralo-altajskim* jezicima, a *malteški/romski* jezik ne pripada ni indoeuropskoj ni uralo-altajskoj skupini jezika.

Sljedeća četiri zadatka riješi uz pomoć geografske karte Europe.

- 3   3. Na crte upiši imena mora označenih na karti brojevima.

1 \_\_\_\_\_

2 \_\_\_\_\_

3 \_\_\_\_\_

- 2   4. Naziv morskog prolaza koji je na priloženoj karti označen kružićem je \_\_\_\_\_.

Zatamnjena država Zapadne Europe je \_\_\_\_\_.

- 2   5. Najveća morska luka Europe smještena na ušću Rajne je \_\_\_\_\_.
- Državu u kojoj se nalazi ta luka ispuni kosim crtama.

- 3   6. U odgovarajući prostor na priloženoj karti upiši slova prema navedenim obilježjima.

A - država poznata po brzim i udobnim vlakovima poznatim pod nazivom TGV

B - država čiji je glavni grad Dublin

C - država koju Doverska vrata spajaju s Francuskom

U sljedeća tri zadatka poveži desni stupac s lijevim upisivanjem samo jednog slova na crte ispred pojmova u lijevom stupcu. Jedno slovo je višak.

- 2   7. Poveži planine i gore s državama u kojima se nalaze.

\_\_\_\_\_ Bugarska

\_\_\_\_\_ Francuska

\_\_\_\_\_ Ujedinjeno Kraljevstvo

\_\_\_\_\_ Italija

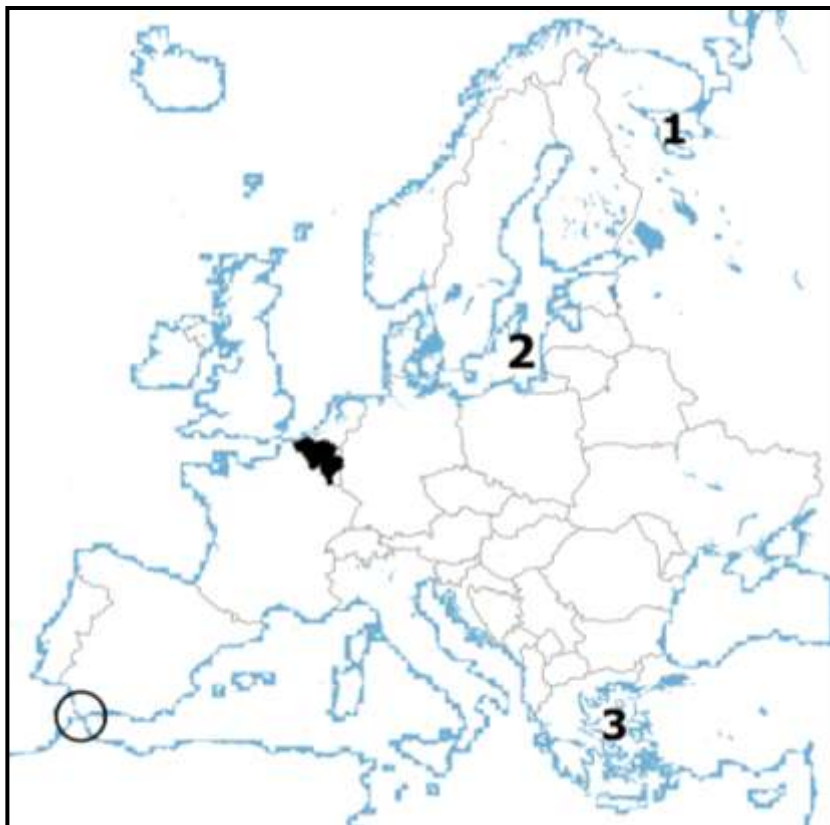
A – Rodopi

B – Središnji masiv

C – Apenini

D – Kambrijsko gorje

E – Ural



2 |

8. Poveži način postanka s odgovarajućim jezerom.

- |                      |                             |
|----------------------|-----------------------------|
| ___ Onega            | A) tektonsko                |
| ___ Ohridsko         | B) ledenjačko               |
| ___ Albano           | C) ostatak nekadašnjeg mora |
| ___ Kaspijsko jezero | D) vulkansko                |
|                      | E) umjetno                  |

2 |

9. Poveži gradove s regijom u kojoj se nalaze.

- |                    |               |
|--------------------|---------------|
| ___ Škotska        | A - Belfast   |
| ___ Sjeverna Irska | B - Dublin    |
| ___ Engleska       | C - Edinburgh |
| ___ Wales          | D - Cardiff   |
|                    | E - London    |

**U sljedećem zadatku poveži desni stupac s lijevim upisivanjem slova na crte ispred pojmova u lijevom stupcu. Dva slova su višak.**

3 |

10. Poveži pojmove s njihovim značenjem.

- |                  |  |
|------------------|--|
| ___ aglomeracija | A - okupljanje stanovništva i gospodarstva na obalama      |
| ___ konurbacija  | B – razvoj gradova i povećanje broja gradskog stanovništva |
| ___ urbanizacija | C - razvoj i jačanje industrije                            |
|                  | D - središnji grad sa urbaniziranom okolicom               |
|                  | E - područje međusobno sraslih gradova                     |

**U svakom od sljedeća četiri zadatka dva su odgovora točna. Zaokruži slova ispred točnih odgovora.**

2 |

11. Koja dva naroda imaju najveći udio u ukupnom broju stanovnika Belgije?

- |             |              |             |
|-------------|--------------|-------------|
| a) Flamanci | b) Baski     | c) Francuzi |
| d) Talijani | e) Katalonci | f) Valonci  |

2 |

12. Koja su među navedenim stara gromadna gorja?

- |            |                        |                       |
|------------|------------------------|-----------------------|
| a) Alpe    | b) Stara planina       | c) Skandinavsko gorje |
| d) Karpati | e) Njemačko sredogorje | f) Pireneji           |

2 |

13. Koja od navedenih mora pripadaju zapadnom obalnom i morskom pročelju?

- |               |           |               |
|---------------|-----------|---------------|
| a) Norveško   | b) Jonsko | c) Sjeverno   |
| d) Barentsovo | e) Bijelo | f) Sredozemno |

2 |

14. Koje od navedenih su glavne ribolovne zemlje Europe?

- |               |             |             |
|---------------|-------------|-------------|
| a) Luksemburg | b) Italija  | c) Njemačka |
| d) Monako     | e) Norveška | f) Island   |

3 |

**U sljedećem zadatku tri su odgovora točna. Zaokruži slova ispred točnih odgovora.**

15. Koje od navedenih država su europske kraljevine?

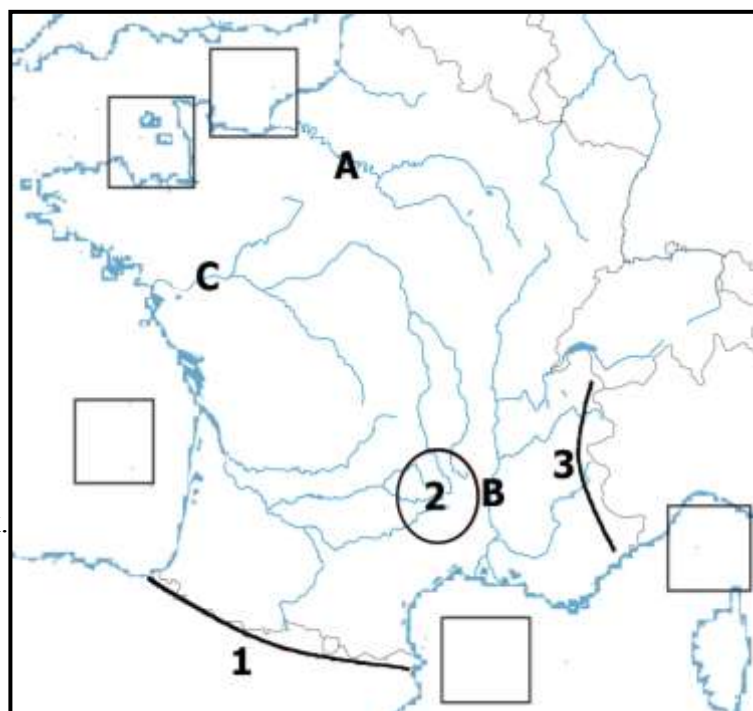
- |               |               |             |           |
|---------------|---------------|-------------|-----------|
| a) Belgija    | b) Nizozemska | c) UK       | d) Monako |
| e) Luksemburg | f) Slovačka   | g) Hrvatska |           |

**U sljedećim zadacima nadopuni rečenice.**

- 2 16. Prostiranjem unutar geografske mreže određuje se geografski \_\_\_\_\_, dok geografski \_\_\_\_\_ određujemo odnosom prema prirodnom i društvenom okruženju.
- 2 17. Geološki najstariji dijelovi Europe nastali u proterozoiku su \_\_\_\_\_ štit i \_\_\_\_\_ platforma.
- 2 18. Plodne površine koje se nalaze ispod razine mora, a nastale su isušivanjem mora nazivaju se \_\_\_\_\_. Najveće takve površine nalaze se u državi \_\_\_\_\_.
- 2 19. Kanal koji spaja Sjeverno i Baltičko more naziva se \_\_\_\_\_, a riječni kanal koji spaja dvije rijeke u Njemačkoj i dio je vodene magistrale koja kroz europski kontinent spaja Crno i Sjeverno more naziva se \_\_\_\_\_.  
(upiši puni naziv).
- 3 20. Danska zauzima veći dio poluotoka \_\_\_\_\_, najdulju i najrazvedeniju obalu u Europi ima država \_\_\_\_\_, a jedina država Zapadne Europe koja nema izlaz na more je \_\_\_\_\_.
- 2 21. Makija je karakteristična vegetacija za \_\_\_\_\_ klimu, a tundra za klimu \_\_\_\_\_ (upiši tip klime).
- 2 22. Razvedena obala kod koje se izduženi otoci i prolazi pružaju paralelno s obalom naziva se \_\_\_\_\_ tip obale, a kod koje se obalni reljefni oblici pružaju poprečno na smjer obale naziva se \_\_\_\_\_ tip obale.

**Sljedeća tri zadatka riješi uz pomoć priložene karte Francuske.**

- 3 23. Na crte upiši imena rijeka označenih na priloženoj karti slovima.  
A \_\_\_\_\_  
B \_\_\_\_\_  
C \_\_\_\_\_
- 3 24. Na crte upiši imena uzvišenja označenih na priloženoj karti brojevima.  
1 \_\_\_\_\_  
2 \_\_\_\_\_  
3 \_\_\_\_\_
- 3 25. Na karti unutar praznih kvadratića upiši odgovarajuće slovo. Dva su kvadratića višak.  
D - Biskajski zaljev  
E - Lionski zaljev  
F - Zaljev Saint-Malo



**U sljedeća dva zadatka poveži srednji i desni stupac s lijevim upisivanjem slova i brojeva na crte ispred pojmova u lijevom stupcu.**

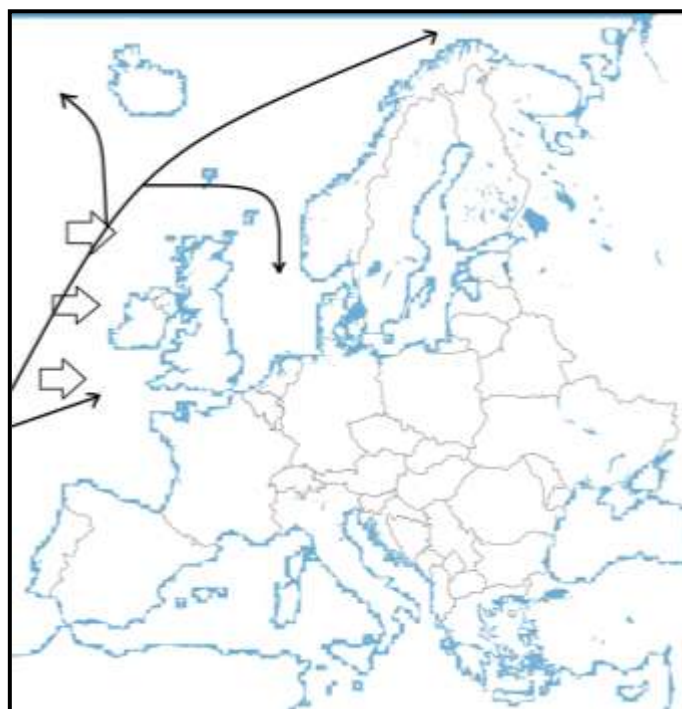
- 3  26. Poveži prostor i karakterističnu vegetaciju s pripadajućim tipom klime
- |                                      |                                      |                                    |
|--------------------------------------|--------------------------------------|------------------------------------|
| _____ sredozemna klima               | A – sjeverna obala Kaspijskog jezera | 1 - makija                         |
| _____ stepska klima                  | B – južna Europa                     | 2 - stepa                          |
| _____ umjereno topla<br>vlažna klima | C – središnji dio Panonske nizine    | 3 - listopadne<br>i mješovite šume |

- 3  27. Poveži gradove i opise s pripadajućim državama.
- |                  |               |  |
|------------------|---------------|--|
| _____ Belgija    | A – Amsterdam | 1 – „zeleni otok“                            |
| _____ Nizozemska | B – Dublin    | 2 – tri službena jezika                      |
| _____ Irska      | C – Bruxelles | 3 – poznata po tulipanima i<br>vjetrenjačama |

**Sljedeća tri zadatka riješi uz pomoć priložene karte Europe.**

- 2  28. Morska struja koja je na karti označena tankim strelicama naziva se \_\_\_\_\_ struja. To je **topla/hladna** morska struja (prekriži netočni dio tvrdnje).

- 2  29. Debljim strelicama na karti označeni su \_\_\_\_\_ vjetrovi koji na europski kontinent donose **vlažan/suh** zrak (prekriži netočni dio tvrdnje).



- 2  30. Izračunaj godišnju temperaturnu amplitudu navedenih temperatura zraka za London i označi London znakom X unutar teritorija države gdje se nalazi.

Temperatura najtoplijeg mjeseca u godini	17 °C
Temperatura najhladnijeg mjeseca u godini	4 °C

Prostor za računanje

Godišnja amplituda temperature zraka u Londonu iznosi \_\_\_\_\_ .